


11



Julos a reçu 73 bonbons  
pour son anniversaire. Il  
en a mangé 37.  
Combien lui en reste-  
t-il?





La famille Spoutnik part en vacances sur la Terre.  
Ils se déplacent en soucoupe volante. Ils vont faire  
la route en trois jours.

Chaque jour, ils vont voler pendant  
8h30. Combien d'heures vont-ils voler  
au total?



12






Nous avons acheté 12 caisses de  
pommes sur le marché. Chaque  
caisse pèse 20 kg.

Vide, elle pèse 5 kg. Combien de  
kilos de pommes avons-nous ?





Ce jeune faon parcourt 700 mètres pour aller boire à la source. Il effectue ce trajet 3 fois par jour.



Combien de mètres parcourt-il?  
Marche-t-il plus d'un kilomètre?



14



Mon caniche pèse 7 kg. Le labrador de mon voisin pèse 5 fois plus.

Combien pèse le labrador ?

15



@MondeMeilleur



Pour Noël, nous avons choisi des décorations:  
4 boules à 3€ pièce,  
2 guirlandes à 5€ pièce,  
1 lutin à 7€.

Nous avons un billet de 20€ et un  
billet de 5€ dans notre porte-monnaie.

16


Avons-nous assez?  
Écris les calculs !



@MondeMeilleur



Tony part en vacances avec ses amis.  
Ils doivent parcourir un trajet de 930 km.  
Après 140 km, ils font une pause.  
Combien de kilomètres doivent-ils encore  
rouler ?



17




Ma taty m'a tricoté un joli pull.

Pour une manche, elle a utilisé 2 pelotes. Pour le devant, 2 pelotes et une demi. Pour le dos, elle a eu besoin de la même quantité.

Une pelote pèse 50g et coûte 5 euros.

Calcule le prix et le poids de la laine utilisée.





Les élèves préparent trois gâteaux pour les anniversaires de la classe..

Il faut 150 g de farine pour chaque gâteau.

L'institutrice a déjà donné 250 g.

Combien manque-t-il de farine?

19



@MondeMeilleur



Mon tonton travaille 3 heures le matin et  
4 heures l'après-midi.

Il gagne 14 € de l'heure.

Il ne travaille pas le samedi après-midi, et  
il a congé le dimanche.

Calcule combien il gagne en une semaine.



20